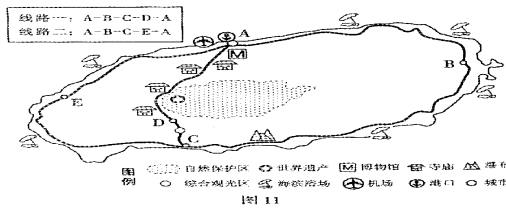


(1) 据材料一,指出与大连相比,当时在汉阳建设铁厂的区位优势。(6分)  
 (2) 据材料二并结合时代背景,概括说明“种、抚、司、道皆可常往观视”会对铁厂发展带来什么影响。(5分)  
 (3) 现代企业在建厂选址时同样受到诸多因素的影响。运用矛盾的相关知识,说明在权衡建厂因素时应坚持哪些方法论原则。(6分)  
 材料三 1955年10月,武汉钢铁厂在武汉市东部长江南岸破土动工,1958年9月建成投产。2011年,汉阳铁厂遗址保护性改造工程启动,原址上将建设一座博物馆,作为青少年爱国主义教育的示范基地。  
 (4) 结合所学知识,说明建设武汉钢铁厂的历史背景。(6分)  
 (5) 结合所学地理知识,分析若1955年选择在汉阳铁厂原址建设武汉钢铁厂,可能会对武汉的城市发展造成哪些不利影响。(5分)  
 (6) 结合材料三,从“文化的特点及影响”的角度,分析为什么要在原址上建设博物馆进行爱国主义教育。(7分)

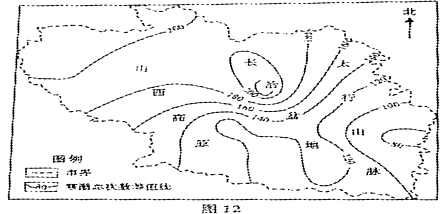
【选做部分】

30. (10分)【地理—旅游地理】  
 位于亚热带季风区的某海岛是著名国际旅游目的地。岛上常住人口密集,大部分消费品需依靠岛外补给,国际交通依赖航空,游客多需提前预订行程。图11为该岛旅游景观分布示意图。读图回答问题。



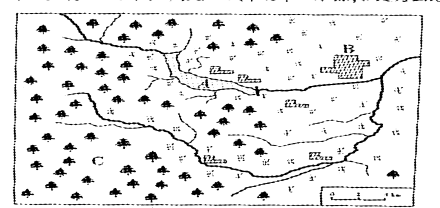
(1) 某国际旅游团到该岛进行一日游,在路线一和路线二中选择了路线一。运用旅游地理知识,分析路线一的优势。(6分)  
 (2) 指出制约该岛旅游景观进一步开发的不利条件。(4分)

31. (10分)【地理—自然灾害与防治】  
 图12为1969—2008年山西省长治市暴雨发生总次数年际线图。读图回答问题。



(1) 指出该区域暴雨发生总次数的空间分布特征,并说明该特征形成的主要影响因素。(8分)  
 (2) 当地果农在暴雨到来之前,常采用浇水的方法来防御暴雨对蔬菜的灾害,其中的原理是什么?(2分)

32. (10分)【地理—环境保护】  
 图13为我国某区域示意图。A处为水源,是B城市的水源,C处为山地。读图回答问题。



(1) 应采取什么措施来保护B城市的水源?(6分)  
 (2) 某企业在C处山坡上开辟采石场,指出其可能对当地造成的生态破坏。(4分)

33. (10分)【历史—历史上的重大改革回眸】  
 下列是一组与1861年俄国农奴制改革相关的文字和图片。阅读材料,回答问题。

材料一 图14描绘了被地主宣布“解放”的农民伏在地上亲吻主人脚面的情景。  
 材料二 一个目击者回忆农民听取“解放”法令的反应时说:“农民们悲喜交加并且低下了头……农民中怨声和叫喊越来越高……”  
 材料三 1876年,一位地主说:“解放法令颁布十五个月后,当我再看到农民时……受奴役的所有迹象都已经消失的无影无踪。”



图14

(1) 结合所学知识,说明俄国废除农奴制的必要性。(6分)  
 (2) 关于农民获得“解放”,为什么会出现不同的描述?你认为上述哪一描述较为客观并说明理由。(4分)

34. (10分)【历史—近代社会的民主思想与实践】  
 下列是两则反映中国共产党不同时期民主建设的材料。阅读材料,回答问题。

材料一 凡居住边区境内之人民,年满十八者,无阶级、职业、男女、宗教、民族、财产与文化程度之区别,经选举委员会登记,均有选举权与被选举权。  
 材料二 历年征战未离鞍,赢得边区老少安。耕者有田四顾美,人民专政地天宽。实行民主真行宪,只见公仆不见官。陕北齐声歌解放,丰衣足食万民欢。

(1) 材料一、材料二分别反映了哪一时期的“边区”民主建设?说明理由。(6分)  
 (2) 概括说明两个时期的“边区”民主建设在当时各发挥了怎样的作用。(4分)

35. (10分)【历史—20世纪的战争与和平】  
 下列材料摘编自丘吉尔《第二次世界大战回忆录》第一卷。阅读材料,回答问题。

材料一 丘吉尔在本卷中探讨了二战的起源,他为本卷定下的主题是:“英语民族如何由于他们的不明智、麻痹大意和好心肠而听任敌人重新武装。”  
 材料二 西班牙内战期间,丘吉尔说:“即使德国继续支持叛军一方,苏联以金钱供给政府一方,我们仍然要采取中立态度。”“我确信,严格遵守中立……是目前唯一正确和安全的办法。”

(1) 材料中的“中立”是不是英国的一种“好心肠”?它对英国来说是不是“安全的”办法?分别说明理由。(6分)  
 (2) 丘吉尔的回忆录是研究第二次世界大战的重要史料,使用时应注意什么问题?(4分)

36. (10分)【思想政治—国家和国际组织常识】  
 阅读材料,回答问题。

中华人民共和国宪法是我国的根本大法。宪法规定,国家行政机关、审判机关、检察机关都由人民代表大会产生,对它负责,受它监督。  
 我国是统一的多民族国家,各级地方政府都在中央政府的统一领导下,在宪法和法律规定的权限范围内行使职权。

(1) 据材料,指出我国的国家管理形式和国家结构形式。(2分)  
 (2) 据材料,分析我国的国家管理形式为什么能有效保证国家机关的协调高效运转。(8分)

37. (10分)【思想政治—公民道德与伦理常识】  
 阅读材料,回答问题。

全国优秀大学生侯海燕热心公益事业,扶贫济困,发起成立了“丛飞爱心社”并担任社长,积极组织社区服务、义务支教等活动。为了给山区的孩子辅导功课,她每周都要换乘两趟车,步行一个多小时的山路。侯海燕曾说过:用无私和真情帮助他人,回馈社会,虽然累,心却快乐。

(1) 据材料,指出社会公德所调整的关系。(2分)  
 (2) 据材料,说明怎样提高个人的社会公德修养。(8分)

国家示范性(骨干)高职院校  
 山东省省级示范性高职院校  
 山东省首批大学生创业教育示范院校  
 山东省最具专业特色高职院校  
 山东省最具就业推动力高职院校

# 国家示范性骨干高职院校

# 山东畜牧兽医职业学院

学院简介 学校创立于1955年,是山东省农业厅直属公办普通高校,是山东省10所省级示范性高职院校之一,是全国100所国家示范性(骨干)高职建设院校之一。  
 学院地处潍坊市市中心,地理位置优越,交通条件便利,校园环境幽雅,人文环境得天独厚。学院面向全国30个省份招生,现全日制在校生近万人,畜牧兽医类在校生数量全国第一,是全国最大的畜牧兽医人才培养基地。  
 学院设置畜牧、兽医、动物防疫、兽药、饲料与营养、食品工程等系部,专业设置科学,行业特色鲜明。学院师资结构合理,实训条件完备,实行小班化教学,集中自修制管理,教风严谨,学风端正,学生管理严格,校园文化厚重。  
 学院以培养创新型高技能人才为目标,突出实践教学,强化技能培养,毕业生素以“技能过硬,扎实肯干”而深受用人单位的欢迎,一直保持供不应求的良好态势,毕业生就业顺畅。学院是省级畜牧兽医类高校毕业生就业市场承办单位,学院每年举办的毕业生就业双选会是全国最大和最具影响力的畜牧兽医类毕业生就业市场。

就业好 好就业 能创业,是学院毕业生就业的显著特点  
 一是学院毕业生的专业对口就业率高,一般在95%以上;二是初次就业率高,如学院2010届毕业生初次就业率高达99.32%;三是自主创业率高且优势明显,已迅速成长起一大批拥有数千万、甚至过亿元资产的“校友创业明星”。在法制晚报与创业之家网站联合发布的“2010年中国80后大学生创业榜”榜单中,我院8位毕业生榜上有名,学院进入2010年中国80后大学生创业榜富豪院校前20强,是20所上榜高校中唯一的高职院校。毕业生主要就业去向:约10%左右经公务员招考进入机关、事业单位(如农牧局、动物检疫局等)或升入普通本科段学习(如青岛农大等);约80%的毕业生进入各类企业工作(如大中型农牧生产型企业、畜产品加工与销售企业、兽药生产与营销企业、饲料生产与营销企业,主要从事生产管理、技术服务、市场营销、化验检验、疫病防控、品控、经营等);约10%左右的毕业生自主创业办实体(如养殖场、宠物医院、兽药及饲料营销店等)。

练就创业技能  
 赢得精彩人生

校址:山东省潍坊市胜利东街88号(261061) 招生咨询电话:(0536)8586253、8581030、2909053 Email:sdmxyzs@163.com http://www.sdmyxy.cn 招生QQ群:34165054、76952768、75402383

国家示范性骨干高职院校 报考代码:D014

# 青岛港湾职业技术学院 (公办)

青岛港湾职业技术学院始建于1975年,原系国家交通部投资建校,现由山东省教育厅主管,青岛港集团主办,坐落在青岛这座风光秀丽的海滨城市,是一所国有公办全日制普通高等专科学校。  
 学院作为港航特色鲜明的高等职业院校,充分利用其强大后盾青岛港独特优势,全力打造核心竞争力,实现了跨越式发展。目前学院占地1045亩,建筑面积28.06万平方米,固定资产总值6.2亿元,教学仪器设备总值1.19亿元,纸质图书52.8万册,电子图书4260GB,学院拥有一支实力雄厚、结构合理的教师队伍,高级职称158人,专任教师424人,其中“双师型”教师占78%,学院面向全国招生,全日制在校生1万多人。现开设交通运输、财经、电子信息、制造、土建、文化教育六大类31个专业,高级职称158人,专任教师424人,其中“双师型”教师占78%,学院面向全国招生,全日制在校生1万多人。现开设交通运输、财经、电子信息、制造、土建、文化教育六大类31个专业,高级职称158人,专任教师424人,其中“双师型”教师占78%,学院面向全国招生,全日制在校生1万多人。

高等职业院校建设计划“骨干高职院校”立项建设单位; 学院被教育部列为全国四大紧缺(数控)人才培养基地之一、山东省职业技能培训鉴定基地、物流师培训基地; 学院一直保持着“中国企业教育先进单位百强”、国家技能人才培养突出贡献奖、山东省“优势专业十佳”高校、中国最佳船员培训学校等一系列荣誉称号。  
 学院不断深化“以服务为宗旨、以就业为导向”的教育教学改革,坚持“校企合作”,积极加强与新加坡理工大学、韩国蔚山大学、台北海洋技术学院、印度NIIT、新加坡高级船员联合会、新加坡海皇轮船有限公司等国内外知名高校和企业的交流合作,建立拓展以国际亿吨大港青岛港为龙头,包括国内各大港口、海尔、海信、中远、中海、上汽通用、海信等知名企业,近几年毕业生就业率保持在95%以上。  
 学院地址:山东省青岛市胶南大学一路(新校) 邮政编码:266404 山东省青岛市经济技术开发区崇明岛西路65号(老校) 联系电话:0532-81735177 81735188 学院网址:www.qdgvw.edu.cn 电子邮箱:qdgvwzsb@163.com