

现代教育·特刊

(1)材料一反映了哪些经济信息?运用经济生活知识,分析材料二中国家为保持对外贸易稳定发展采取的经济措施有何意义。(9分)

(2)据材料二,运用政治生活知识,分析为保持对外贸易稳定发展政府应如何提高服务水平。(8分)

(3)阐释材料三蕴含的唯物辩证法观点。(7分)

31.(14分)阅读材料,回答问题。

雷锋精神犹如一座巍然矗立的灯塔,放射着夺目的光芒。在新的历史条件下,弘扬雷锋精神、开展学雷锋活动,要不断赋予其新的时代内涵。今天,雷锋勤俭节约的美德可以转化为低碳、节能环保意识,雷锋助人为乐的品质可以转化为奉献、互助等志愿者精神。

(1)结合材料,运用物质与意识辩证关系的知识,谈谈我们应该怎样开展学雷锋活动。(6分)

(2)运用文化生活知识,从精神文明建设的角度,分析开展学雷锋活动的意义。(8分)

【选做部分】

32.(10分)【地理—旅游地理】

图8为我国某5A级沙漠生态旅游景观分布示意图。读图回答问题。

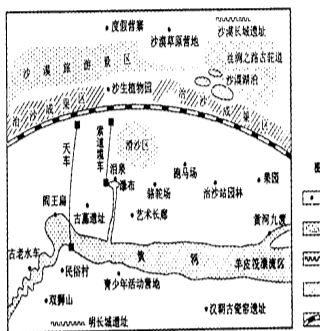


图8

(1)指出该旅游区旅游资源的优势。(6分)

(2)针对该旅游区生态环境的脆弱性,提出保护旅游资源的措施。(4分)

33.(10分)【地理—自然灾害与防治】

图9为我国某区域图。读图回答问题。

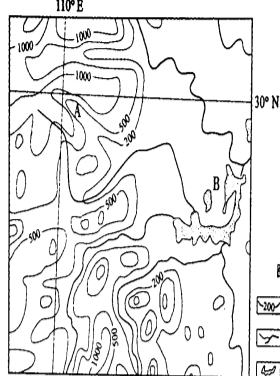


图9

(1)指出A地洪水灾害多发的月份,并分析其气候原因。(4分)

(2)指出A、B两地预防洪涝灾害应采取的不同措施。(6分)

34.(10分)【地理—环境保护】

表3为我国西北某区域三个年份各类盐渍化土壤面积统计表。读表回答问题。

表3 (单位:km²)

Table with 4 columns: Type, 1990, 2000, 2010. Rows include Heavy, Medium, and Light saline soils, and a Total row.

(1)分析该区域1990-2010年土壤盐渍化变化的特点。(6分)

(2)指出该区域农业生产中防治土壤盐渍化应采取的措施。(4分)

35.(10分)【历史—历史上重大改革回眸】

商鞅变法和魏孝文帝改革都是在社会转型时期进行的重大改革,两次改革不囿于传统,顺应历史,对中国历史发展产生了深远影响。结合所学知识,回答问题。

(1)面对社会转型,两次改革要解决的主要矛盾各是什么?举例说明。(4分)

(2)依据改革的措施,概括说明两次改革“除旧布新”的形式有何不同,并指出其对历史发展所起的相同作用。(6分)

36.(10分)【历史—近代社会的民主思想与实践】

以下是选自1911年11月2日《神州日报》的一段文字。阅读材料,回答问题。

救亡之策,惟汲汲焉,和革,调新旧,速建共和。……务乞化死同胞,军民一心,速迎天机,各守公法,速建共和立宪国。袁世凯资格,适于总统,外论亦协,方不可折入满洲,存帝自扰。

——《伦敦侨教全国同胞电》

(1)据材料,概括指出伦敦侨教支持袁世凯为临时大总统的理由。(5分)

(2)结合史实,说明伦敦侨教建立“共和立宪国”的愿望是否真正得以实现。(5分)

37.(10分)【历史—20世纪的战争与和平】

经历两次世界大战的浩劫,人们对如何避免战争、维护世界和平有了更深刻的思考和认识。阅读材料,回答问题。

撇开经济进步而单纯依靠军事力量换来的和平是短暂的,并且也是徒劳的。

——保罗·肯尼迪《联合国过去与未来》

结合一战后和二战后西欧的相关史实,写一篇历史短文,谈谈你对材料所述主张的认识。(10分)

要求:①主题明确,观点合理;②史实准确,史论结合;③条理清晰,合乎逻辑。

38.(10分)【思想政治—国家和国际组织常识】

在国际舞台上,联合国、世界贸易组织、亚太经济合作组织、欧盟等国际组织发挥着日益重要的角色。在应对全球气候变化问题上,中国政府主张发挥联合国的主导作用,加强国际合作,推动全球气候问题的解决。

(1)找出下列国际组织与其特征之间的对应关系(将对应的字母编号填写在答题卡指定位置)。(4分)

Table with 2 columns: International Organization and Characteristics. Rows include UN, EU, WTO, and APEC.

(2)在应对全球气候变化问题上,中国政府为什么主张发挥联合国的主导作用?(6分)



山东水利职业学院


阳光海岸 品牌水院

●全国水利高等职业教育示范院校 ●山东省高校就业工作评估优秀院校

●全国职业院校魅力校园 ●山东省德育工作优秀高校

●山东省首批高职院校人才培养工作水平评估优秀院校 ●山东省高校文明单位 ●山东省高校公寓管理工作先进单位

山东水利职业学院是一所省属公办全日制普通高等院校,是以水利为特色,以工科为优势的综合性院校。学院前身创建于1958年,2002年经山东省人民政府批准、教育部备案,成为一所省属、公办、全日制普通高等院校,隶属于山东省水利厅、教育厅。2006年在山东省委高校工委组织的高职高专与技工院校建设工作中被评为“双优”,分别被授予“德育工作优秀院校”和“文明校园”荣誉称号;2007年被评定为“山东省高校体育先进单位”;2008年荣获“全省高校公寓管理工作先进单位”称号,被国家水利部批准为“全国水利高等职业教育示范院校”;2011年荣获“2011年全国职业院校魅力校园”、“山东省高校转型发展先进单位”、“十一五”全国水利职工教育“先进集体”等荣誉称号。学院被教育部、教育厅确定为“建设行业技能型紧缺人才培养基地”。



学院地处以“蓝天、碧海、金沙滩”闻名的新兴海洋特色城市山东省日照市,按照《日照市城市总体规划》,学院位于日照市东港区,依山傍海,环境优美,气候宜人,地理位置优越。学院占地面积84万平方米,校舍总建筑面积49万平方米,现有在校生1.2万余人。教学仪器设备总值2200万元,图书馆藏书84.8万余册,期刊1000种,建有80个设备先进的校内实训基地,建有工程技术实训基地,是中央财政部支持的职业教育实训基地建设院校。学院建有教职工962人,其中专任教师608人,具有副教授及以上高级专业技术职务的233人,专任教师中具有硕士学位以上学位的230人,专任教师队伍中双师型比例达84.4%。国务院政府特殊津贴1人,全国优秀教师1人,水利部651人才工程入选1人,全国水利职教名师2人,省部级优秀教师6人,山东水利“9131”人才培养工程5人,山东省委设计大师1人,山东省水利厅专业技术拔尖人才12人,省级教学团队9个,先后承担国家、省、部、厅科研项目100余项,获国家科技进步二等奖2项,省部级科技进步奖14项,地厅级科技进步奖95项。近三年发表论文800篇,中文核心期刊发表141篇,被SCI、EI等收录69篇,每年出版论著、教材近40余部,广泛社会开展生产技术服务100多项。



学院始终坚持以人为本,以水为魂”的办学理念,秉承“上善若水”的品格,敞开“海纳百川”的胸怀,专注内涵发展,打造核心竞争力。学院开设60个专业,涵盖水利、土建、制造、电子信息、财经、旅游、艺术设计等12个专业大类,水利工程和建筑工程技术专业是全国水利高等职业教育示范专业,水利工程和机电一体化技术专业是国家财政专项建设基金重点支持专业,水利工程和机电一体化技术专业被山东省教育厅确定为职业教育“十、百、千工程”建设方案示范专业,水利工程、建筑工程技术、电子信息工程、机电一体化技术、水利水电工程管理和会计电算化等6个专业被山东省教育厅确定为山东省高等职业院校特色专业,水利工程、建筑工程技术、机电一体化技术、电子信息工程、工商管理、市场营销、技术、土木工程检测技术、电气启动

职业发展规划教育体系,为学生的终身职业发展提供充足动力。2011年学院整体就业率98.3%毕业生大多被中国水利水电十三局、山东水利工程建设公司、山东路桥集团、五环集团、日照渔集团、日照钢铁集团、济南第二机床厂、烟台沃沃集团、烟台动力、康源科技、日照三岳集团有限公司、山东冠通汽车贸易、山东路工、日照益源空调整备等大中型企业录用。学院以特色专业建设为目标,在功能特色上要成为高等技术人才的摇篮、职业能力开发的平台、产学研一体化的基地;在办学层次上,以三年制高等职业技术教育为主体,大力发展继续教育和技术培训,积极探索国内外多种形式的合作办学;在培养目标上,通过校企合作和工学结合,不断创新人才培养模式,培养专业基础扎实、综合素质高、实践能力强,在生产、建设、管理、服务一线工作的高素质技能型人才。

更多详情情况欢迎登录以下网站查询:

山东水利职业学院招生信息网 http://www.sdwrpc.com/szxy/

