

现代教育·特刊

作曲家在创作时通常运用曲调的上下起伏、节拍的强弱对比以及音符的长短不同来塑造音乐形象,表达音乐情感。分析下列四个音乐片段,完成60-62题。

Four musical notation examples with pitch contours. Example 1: 1=F 4/4, notes 3 2 5 3 2 | 1 2 3 1 | 5 - - - | 5 - - - |. Example 2: 1=A 2/4, notes 5. 4 3 | 2 3 | 1 5 | 2. 3 2 | 1 5 | 6 5 | 4 6 | 3 - |. Example 3: 1=C 3/4, notes 6 7 1 7 1 2 | 1 2 3 2 3 4 | 3 4 5 4 3 2 | 3 2 1 2 1 7 | 6. Example 4: 1=A 2/4, notes 5 3 3 2 - | 5 3 3 2 1 - | 1 3 2 6 - | 2 1 7 6 5 - |.

- 60. 每一条曲调下方都有一条对应的旋律线,其中有错误的是 A. ① B. ② C. ③ D. ④
61. 根据旋律、节奏及节拍特点判断,描写山泉潺潺而流的片段是 A. ① B. ② C. ③ D. ④
62. 下行的旋律常用于表达情绪的低落,以上片段中最能体现凄凉、哀伤情绪的是 A. ① B. ② C. ③ D. ④

图13是一种应用传感器监测轨道车运行的实验装置。在轨道某处设置监测点,当车头到达传感器瞬间和车尾离开传感器瞬间,信号发生器各发出一个脉冲信号,由记录仪记录。完成63-65题。

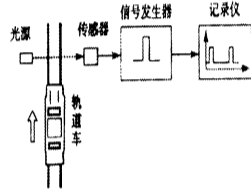


图13

- 63. 在该实验装置中,最适合使用的传感器是 A. 光电传感器 B. 气体传感器 C. 热传感器 D. 压力传感器

- 64. 假如轨道车长度为22cm,记录仪记录的信号如图14所示,则轨道车经过该监测点的速度为 A. 0.20 cm/s B. 2.0 cm/s C. 22 cm/s D. 220 cm/s

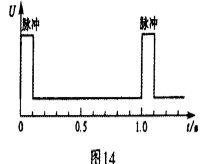


图14

- 65. 轨道车运行时,车与轨道摩擦使轨道温度升高。下列说法正确的是 A. 温度升高,但轨道的内能不增加 B. 温度升高,但轨道不会产生热辐射 C. 摩擦生热与摩擦生电一样,都涉及能量转化 D. 轨道对车的摩擦力方向与车的运动方向无关

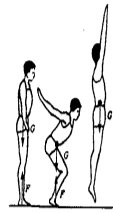
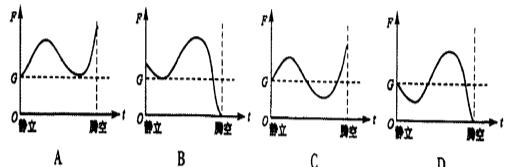


图15

- 66. 人在平地上静止站立时,受到的支撑力等于人的重力。做原地纵跳时,在快速下蹲和蹬伸的过程中,人体受到的支撑力发生变化(图15,G为重力,F为支撑力)。下列曲线能正确反映该变化的是



- 67. Android是一种手机软件,它负责管理手机的所有软件和硬件资源。下列软件与Android功能相似的是 A. Internet Explorer B. Windows XP C. PowerPoint D. Photoshop


- 68. 互联网与我们的生活息息相关,下列说法不正确的是 A. 使用双引号进行强制检索可以搜索引擎的检索结果更精确 B. 通过网络公民可以参与政府政策讨论、发表个人见解 C. 通过电子地图可以查找旅游路线和旅游地公共交通路线 D. 设置高强度的密码可以确保个人信息不被泄露

- 69. 假设某图片为1024x1024点阵结构,每个点需要用三个字节来表示,在不压缩的情况下,该图片文件的大小是 A. 3 MB B. 6 MB C. 18 MB D. 24 MB

- 70. 数字图像可以用多种方法进行处理,下列有关说法不正确的是 A. 同一幅图像的存储格式可以转换 B. 处理后图像的内容可以发生变化 C. 裁剪后图像文件大小不变 D. 彩色图像可以变为黑白图像

第二部分 共15题,每题2分,共30分。在每题给出的四个选项中,有的只有一个选项符合题目要求,有的有多个选项符合题目要求,全部选对的得2分,选对但不全的得1分,有选错的得0分。

- 71. 世界各国及地区往往拥有独具特色的文化艺术,下列对应正确的是 A. 巴西——芭蕾 B. 印度——瑜伽 C. 日本——相扑 D. 西班牙——斗牛
72. 地名被称为研究历史的“活化石”。下列成语中含有地名的是 A. 黔驴技穷 B. 得陇望蜀 C. 狡兔三窟 D. 亡羊补牢
73. 学习书法的范本可分为墨迹与拓本两类。下列属于拓本的是



A

B

C

D

- 74. 2012年农历四月十五是小明十二岁生日,有趣的是小明今年有两次农历生日,与他同岁的小刚从出生至今只过了三次阳历生日。下列各项判断正确的是 A. 两人属相都为马 B. 小刚的生日是农历二月二十九 C. 两人出生那年是阳历闰年 D. 2012年是农历闰年

75. 画像石是珍贵的文化遗产,图16是汉画像石《荆轲刺秦王》。下列说法正确的是



图16

- A. 画像石是介于绘画与雕刻之间的艺术样式 B. 画面描绘的事件发生在春秋时期 C. 荆轲刺秦王意在阻止秦的兼并战争 D. 作者通过透雕手法勾勒出生动的人物形象

- 76. 2012年,中国共产党将召开第十八次全国代表大会。下列有关党的代表大会叙述正确的是 A. 中共一大确定党的中心任务是领导和组织工人运动 B. 中共八大提出了过渡时期的总路线 C. 中共十三大明确了党在社会主义初级阶段的基本路线 D. 中共十四大提出了建立社会主义市场经济体制的目标

- 77. 发展基层民主是我国社会主义民主政治建设的重要内容。下列属于我国基层群众性自治组织的是 A. 企业董事会 B. 村民委员会 C. 居民委员会 D. 消费者协会

- 78. 增强肌肉力量的练习多种多样,其中自重训练是将自身重力作为负重并用自身力量克服负重的方法。下列属于自重训练的是 A. 弓步压腿 B. 坐位体前屈 C. 俯卧撑 D. 引体向上
79. 自然资源是人类社会生存与发展的物质基础。下列说法正确的是 A. 太阳能是不可再生资源 B. 自然资源具有多用性 C. 自然资源的利用随科技发展而发生变化 D. 自然资源空间分布不均

青岛求实职业技术学院

国内最大的空中乘务人才培养基地

就业率 就业质量 师资水平 三高院校

学院简介

青岛求实职业技术学院创建于1992年,是经山东省人民政府批准、国家教育部备案的普通高等院校,是一所高起点、多层次、多学科、综合性高等院校。学院坐落在经济发达的国际化海滨城市——青岛,毗邻胶州湾,风景秀丽、环境优美。学院总占地1200余亩,下设信息工程学院、商学院、外语学院、机电工程学院、建筑工程学院、汽车工程学院、航空服务学院、旅游学院、艺术学院、影视学院、酒店管理专业、动漫学院、报关学院等二十五个分学院和一个中专部,开设了空中乘务、旅游管理、应用韩语、计算机信息管理、汽车制造与装配、建筑工程、动漫设计与制作等四十一个热门专业,七十三个专业方向和二十个实践考核本科专业。现有各类在校生15000余人,二期工程竣工后可容纳在校生30000余人。

航空服务专业简介

我院航空服务专业是全国最大的空乘人才培养基地!

航空服务学院设有空中乘务、地面勤务、安全保卫、安全检查、票务代理等专业,其中空中乘务专业是我院特色、品牌专业之一。学校根据多方的考察和全面的论证之后,于2002年设立此专业。同时,学校对于学生的培养做了详细的规划和大量的投入,在注重专业知识与技能传授的同时,更注重学生的团队精神、人际沟通、为人处事、待人接物、职业操守以及可持续发展等能力的培养和提高。



2012招生专业一览表

学院	专业	专业代码	统招专科专业	学院	专业	专业代码	统招专科专业
信息工程学院	1	590106	计算机信息管理	艺术学院	22	560105	环境艺术设计
	2	590101	计算机应用技术		23	590110	动漫设计与制作
	3	590104	计算机系统维护		24	670110	雕刻艺术与家具设计
建筑工程学院	4	510202	园林技术	商学院	25	620304	国际贸易实务
	5	560301	建筑工程技术		26	620405	电子商务
	6	560701	房地产经营与估价		27	620401	市场营销
	7	560402	供热通风与空调工程技术		28	650204	人力资源管理
	8	560502	工程造价		29	620206	会计与审计
	9	560504	工程监理		30	620106	金融保险
	10	580201	机电一体化技术		31	520605	报关与国际货运
机电工程学院	11	580103	数控技术	航空服务学院	32	520503	空中乘务
	12	580202	电气自动化技术	旅游学院	33	640101	旅游管理
	13	580106	模具设计与制造	34	640202	烹饪工艺与营养	
外国语学院	14	660102	应用英语	城市管理专业	35	560702	物业管理
	15	660103	应用日语	公安学院	36	680103	安全保卫
	16	660119	应用韩语	体育学院	37	660305	体育服务与管理
汽车工程学院	17	580401	汽车制造与装配技术	影视学院	38	670202	音乐表演
	18	580402	汽车检测与维修技术	39	670309	电视节目制作	
	19	580405	汽车应用技术与营销	酒店管理专业	40	640106	酒店管理
服装学院	20	610204	服装设计	基础学院	41	504012	学前教育
	21	670106	装潢艺术设计				

2012年省内各地招生电话

地区	负责人	联系方式	地区	负责人	联系方式
滨州	沾化	王云超 15092051008	烟台	蓬莱	王宁 13606422896
	惠民	徐江涛 13665328915		栖霞	陈成伟 13606422578
	博兴	崔芳欣 13969632737		芝罘	隋俊华 15908937991
	邹平	郑金凤 15165291713		即墨	徐健忠 15866860179
菏泽	牡丹	陈飞 13583256672	青岛	市南	刘作照 15864216017
	单县	赵春兰 15092191643		城阳	杨友瑞 15192058717
	定陶	王爱泉 15192680908		胶南	林夕宝 13969771157
	巨野	孙海滨 15953225393		胶州	姜佩佩 13969662936
济南	郓城	王清泉 13573244688	莱西	莱西	王桂芬 15969886910
	曹县	徐永强 15964214667		莱州	辛宝健 15865563767
	莱芜	吴振燕 15092009516		平度	杨京叶 15863006195
	济阳	于秀淼 18678831997		四方	王伟 13953227856
济宁	平阴	刘红磊 13780668254	东营	市北	刘长玉 18724765097
	历城	付磊 18669809680		黄岛	范晓燕 13969690207
	微山	孙崇阔 18653201345		市区、垦利	赵军 13864246066
	市区	徐倩 15254210188		广饶	李惠子 13553095180
日照	曲阜	王辉 13792868426	聊城	莘县	李强 13573292716
	兖州	董浩 15192680297		冠县	李荣杰 15275297136
	邹城	王娟 13864848080		东阿	石保康 15275297137
	汶上	王清亮 13780628306		莘县	王晓芳 15865511037
威海	梁山	韦立伟 13668876151	德州	东昌府区	和敬华 15966897089
	岚山	曹栋 13687618144		阳谷/临清	赵含岳 15969847555
	莒县	李霞 13791931160		兰山、河东、罗庄	薛山 18766258122
	东港	杨柳 18766273658		苍山	孙懂懂 15865559757
潍坊	五莲	胡军 15854288345	临沂	费县	张刚杰 13789882794
	泰安	郭宇锋 15964213057		莒南	董庆坤 15964226023
	荣成	许丽晶 15092092991		沂水	陈希祥 15806552675
	文登	朱天宇 15066294432		沂南	郑鑫海 15166607288
烟台	乳山	宋仑 15253217182	枣庄	郯城	徐金海 15092160673
	市区	邵红 15063027776		临沭	马善涛 15863061417
	安丘	逢建康 15063656076		夏津	耿磊 15192771435
	寿光	刘妮妮 13969770622		陵县	崔艳玲 13884967707
德州	高密	张琳琳 15254202528	德州	临邑	李维刚 15092160673
	昌乐	张文强 13864207879		禹城	李学坤 18763909097
	市内	管辉 13791600359		庆云	杨友善 13969657219
	诸城	闫传伟 15153214571		齐河/乐陵	牟春阳 15262320524
聊城	招远	杨尚澎 18660003457	烟台	平度	刘美云 15263040042
	长岛	王永芳 15165289285		福山	姜树利 13687601791
	牟平	隋俊华 15908937991		莱山	王清雷 18853239171
	福山	姜树利 13687601791		海阳	任桂金 15806552026
烟台	莱山	王清雷 18853239171	烟台	莱阳	李连云 15254288017
	海阳	任桂金 15806552026		莱州	张晓彬 15165263833
	莱阳	李连云 15254288017		龙口	田晓燕 18724706102
	莱州	张晓彬 15165263833			