

[2] But money _____. He married five times and divorced five times. He had five children but spent little time with them. None of Getty's children had very happy lives.

[3] Getty loved to make money and loved to save it. In spite of his great wealth, Getty was a miser. Every evening, he wrote down every cent he spent that day. He even put pay telephones in the guests' bedrooms in his house so he could save money on phone bills.

[4] In 1973, kidnapers took his 16-year-old grandson, and demanded a large amount of money for his safe return. Getty's son asked his father for money to save his child. But Getty refused. The kidnapers were merciless and Getty's son made repeated requests for help from his father. Finally, Getty agreed to lend the money, but at 4 percent interest.

[5] Getty started a museum at his home in Malibu, California. He bought many important and beautiful pieces of art for the museum. When Getty died in 1976, the value of the collection in the museum was \$1 billion. He left all his money to the museum. After his death, the museum grew in size. Today it is one of the most important museums in the United States. Getty made a large fortune in his life, but he gave his money to the art world because he wanted people to learn about and love art.

76. What is the main idea of Paragraph 1? (no more than 8 words)

77. Fill in the blank in Paragraph 2 with proper words. (no more than 7 words)

78. Explain the underlined sentence in Paragraph 3.

79. What did the kidnapers do to Getty's family? (no more than 10 words)

80. What does the author want to tell us about Getty in the last paragraph? (no more than 10 words)

第二节 写作(满分30分)

假设你是新华中学的学生李华,你的美国朋友Tom一周前给你发电子邮件,询问你暑假里的打算,但你因准备期末考试未能及时回复。请根据以下要点给他回封邮件:

- 1. 未及时回信的原因;
2. 你假期的打算(如做兼职、旅行、做志愿者等)。

注意:1. 词数:120-150;
2. 可适当增加细节,以使行文连贯。

绝密★启用并使用完毕前

2013年普通高等学校招生全国统一考试(山东卷)

文科综合

本试卷分第I卷和第II卷两部分,共12页。满分240分。考试用时150分钟。答题前,考生务必用0.5毫米黑色签字笔将自己的姓名、座号、考生号、县区和科类填写在试卷和答题卡规定的位置。考试结束后,将本试卷和答题卡一并交回。

第I卷(必做,共100分)

注意事项:

- 1. 第I卷共25小题,每小题4分,共100分。在每小题给出的四个选项中,只有一项是最符合题目要求的。
2. 每小题选出答案后,用2B铅笔把答题卡上对应题目的答案标号涂黑。如需改动,用橡皮擦干净后,再选涂其他答案标号。不涂在答题卡上,只答在试卷上不得分。

图1示意某流域开发的三个阶段(a)和三条流量变化曲线(b)。读图回答1-2题。

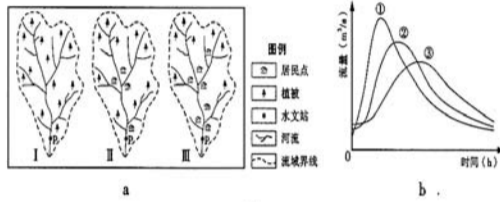


图1

- 1. 该流域开发过程中
A. 降水量增加 B. 蒸发量增加
C. 下渗减少 D. 地表径流减少
2. 假设该流域三个阶段都经历了相同的一次暴雨过程,在P处形成的流量变化过程与图1b中①、②、③分别对应的是
A. I、II、III B. II、I、III
C. III、II、I D. I、III、II

图2示意我国植被的地带性分布。读图回答3-4题。

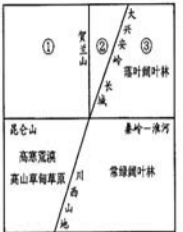


图2

- 3. 图中②为
A. 草原 B. 荒漠
C. 针叶林 D. 针阔混交林
4. 我国东部森林植被的东西宽度在南北方向上发生变化,其主导因素是
A. 纬度 B. 洋流
C. 地形 D. 季风

气温的日变化一般表现为最高值出现在14时左右,最低值出现在日出前后。图3示意某区域某日某时刻的等温线分布,该日该地的正午太阳高度达一年中最大值。读图回答5-6题。

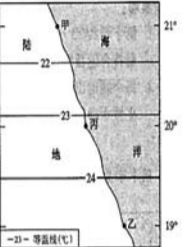


图3

- 5. 下列时刻中,最有可能出现该等温线分布状况的是
A. 6时 B. 9时
C. 12时 D. 14时
6. 该日
A. 日落时刻甲地早于乙地
B. 日落时刻甲地晚于乙地
C. 正午太阳高度甲地大于乙地
D. 正午太阳高度甲地小于乙地

图4示意东欧城市的典型空间结构。读图回答7-8题。



图4

- 7. 图中①、②、③代表的依次是
A. 工业区、别野区、绿化区
B. 绿化区、工业区、别野区
C. 绿化区、别野区、工业区
D. 别野区、绿化区、工业区
8. 该城市
A. 老城区地租最高
B. 中心向西南方向移动
C. 空间形态变化受交通影响
D. 仓储式购物中心地处中心商务区

金吉列留学移民

教外综资认字【2000】15号 京公境准字【2007】0012号

金吉列携手中国消费者协会联合发布《出国留学消费指导手册》



致留学

用未来的知识去应对不确定的未来

第40届世界名校全国巡回招生面试会

6月16日·济南

索菲特银座大饭店六楼 济南市历下区泺源大街66号

预约热线:0531-81851155

合作机构: 浦发银行, 新航道, WORLD, 立信投资

精彩看点:

- * 美、英、加、澳、日、韩、新、马、俄、乌、白等来自全球23个国家和地区逾百所海外名校 * 特邀驻英国、新西兰、日本大使馆前教育参赞携手名校招生官员奉献数场精彩讲座
* 多国使馆专家面授机宜, 答疑解惑 * 雅思、托福、SAT: 现任雅思考官、美国外教现场测试 * 金融区、语言区、外教口语区出国一站搞定

推荐院校:

- 美国: 南加州大学、密歇根大学安娜堡分校、凯斯西储大学、加州大学欧文分校、迈阿密大学、伊利诺伊大学、威斯康星大学、俄亥俄州立大学、密歇根州立大学、爱荷华大学、纽约州立大学、俄克拉荷马大学、麻省大学、旧金山大学、中密歇根大学、俄勒冈州立大学、东南密苏里州立大学、肯特州立大学、萨福克大学、霍普文理学院等
英国: 公立预科、曼彻斯特大学、汉普顿皇家小学、巴斯大学、嘉利维高中联盟、安培德高中、剑桥文理中学、贝勒比斯学院、伦敦城市大学、爱丁堡大学、INTO教育集团、华威大学、英国阿贝高中、谢菲尔德大学、伦敦大学国王学院、Kaplan教育集团等
加拿大: 埃德蒙顿公立教育局、哥伦比亚国际学院、卡普顿大学校内EAP中心、多伦多天主教公立教育局、百年理工学院、约克大学、菲尔斯顿学校、汉博学院、堪诺多学院、北美高中联盟、多伦多大学、曼尼托巴大学等
澳新: 悉尼大学、西澳大学、昆士兰大学、澳洲国立大学、麦考瑞大学、悉尼科技大学、格里菲斯大学、迪肯大学、南澳大学、奥克兰大学、坎特伯雷大学、梅西大学、奥克兰AUT大学、怀卡托大学、林肯大学、奥塔哥大学、惠灵顿维多利亚大学、维特利亚理工学院等
亚洲: 日本安日本语学校、富士国际语学院、JCL外国语学院、神户电子专门学校、淑德日本语学校、千代田国际语学院、千代田日语学校、明德义塾高等学校、新加坡博伟国际教育学院、楷博高等教育学院、新加坡管理发展学院、马来西亚英迪大学、亚太科技大学、俄罗斯圣彼得堡国立大学、韩国延世大学、弘益大学等

做良心事业,铸精彩人生 诚邀业内优秀资深咨询顾问人才加盟。简历投递邮箱hr.jn@jil.cn 专业办理:美、英、澳、加、新、俄、乌、日、韩、马、爱、法、荷、挪、瑞、丹、芬、比、德、西、意、白俄等国留学 专家团队:美国、英国、加拿大、澳大利亚、新西兰、法国、俄罗斯、日本、意大利、西班牙等十国大使馆前教育参赞 济南分公司:0531-81851155 网址:WWW.JJL.CN 中文域名:金吉列中国 地址:济南市市中区泺源大街229号 金龙大厦主楼29层AB