

79. 自行车有时会出现链条脱落的现象。若一轻便自行车的链条从牙盘上脱落,如图17所示,重新装上链条可选用的做法是

- A. 先将链条在a点与牙盘啮合,再顺时针转动牙盘
B. 先将链条在a点与牙盘啮合,再逆时针转动牙盘
C. 先将链条在b点与牙盘啮合,再顺时针转动牙盘
D. 先将链条在b点与牙盘啮合,再逆时针转动牙盘

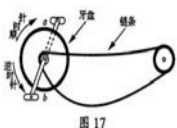


图17

80. 某音乐魔方开启后能播放一首美妙的乐曲,开启方法为:输入能被5整除且不能被100整除的数值,或者输入能被500整除的数值。下列数值中可使魔方播放乐曲的有

- A. 120 B. 200 C. 2000 D. 2006

81. 爱耳护耳,聆听世界。关于用耳卫生,下列做法合理的是

- A. 每日用棉棒清除耳垢
B. 戴耳机听音乐时将音量调至最大
C. 避免在嘈杂环境中进行体育锻炼
D. 耳朵进水时,将头偏向进水一侧,同侧单足跳将水排出

82. 为了演示柴油发动机的工作原理,某同学做了如下实验(图18):快速向下推动活塞,引燃乙醚,乙醚燃烧又促使活塞向上运动。该过程中

- A. 引燃乙醚不需要达到乙醚燃点
B. 乙醚燃烧不消耗氧气
C. 乙醚燃烧释放出能量
D. 有动能和热能之间的转化

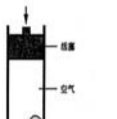


图18

83. 寒潮是我国常见的天气,它可以直接造成

- A. 西北地区的常年干旱
B. 东北地区的春涝
C. 黄淮地区的风雪交加
D. 江南地区的雨雪冰冻

84. 在图幅大小相同、比例尺不同的两幅地图中,同一个城市可分别用点状和面状两种符号表示。据图19判断,下列说法正确的是

- A. 甲图的比例尺比乙图大
B. 甲图反映的区域范围比乙图小
C. 甲图中的S市城区面积比乙图大
D. 甲、乙两图中的铁路长度相等

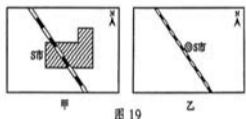


图19

85. 一张方桌在水平地面上不稳定,测量后发现桌腿长度不完全相同。如图20所示,桌腿a、b、c、d的长度分别为80厘米、80厘米、79.8厘米和79.5厘米。经尝试后发现,只在一条桌腿下垫上合适木片就能保证桌子稳定,那么这条桌腿有可能是

- A. 桌腿a B. 桌腿b
C. 桌腿c D. 桌腿d



图20

2013年普通高等学校招生全国统一考试(山东卷)

语文试题参考答案

第I卷

- 一、1. A 2. C 3. B 4. B 5. C
二、6. D 7. D 8. A
三、9. B 10. D 11. C 12. B

第II卷

四、

13.

- (1)章三益具有救世的优秀才能,当福建贼寇逼近时,他曾经树起旗鼓,磨砺兵器,率众击退了他们,大概是希望建立功业来显示自己。
(2)那些能够冒着每年的严寒而不改变品行的,不是松树吗!因此从前的君子常常借松树来激励自己,推求章三益的志向,大概也是像这样的吧。

14.

- (1)三四两句中的“烟”有两个特点:一是色白,一是具有动态。诗人在第三句用比喻的修辞方法,形容山岚在月光下呈现出如云的白色;第四句以“流”字描写山岚之动态,形象生动。
(2)诗人不眠有两方面原因:一是喜爱山中夜景,前四句描写山中月夜美景,第五句“开门惜夜景”,“惜”字表达了诗人对山中夜景的喜爱;二是思家,最后两句中“无家客”“独”表现出诗人的孤独和羁旅思家之情。

15.

- (1)则知明而行无过矣 不尽长江滚滚来
(2)寄蜉蝣于天地 齐彭殁为妄作
(3)如今有谁堪摘 不相为谋
(4)钟鸣鼎食之家 景行行止

五、

16.

- ①如果 ②甚至 ③因此 ④否则

17.

- 示例一:①用汗水浇灌希望,孜孜不倦 ②诗词歌赋,颂不完您带来的感动
示例二:①用双手托起未来,无怨无悔 ②赤橙黄绿,画不完您多彩的人生

18.

创造是人首次获得精神或物质成果的思想和行为活动。

六、

(一)

19.

- ①老迈年高;②饱尝活着的痛苦与艰辛;③表现出生命的韧性。

20.

- (1)运用比喻,将牛喻为自己的孩子,形象生动地体现了老人对亲人的渴望。
(2)细节描写,通过“沾满了泥”“微微晃动”等细节,表现出老人与牛的老态和劳作之后的疲惫。

21.

- ①点出了老人的乡间生活环境;②透露出乡间的生活都顺应着自然的规律;③以此结尾,深化主题,增添了小说的意味;④照应开头,使文章结构完整。

22.

- ①“活着”概括了老人、老牛的生存状态;②让读者体味“活着”的滋味;③产生如何对待生命的思考;④形象生动,言简意丰,耐人回味。

(答出其中三点即可。其他答案,只要言之成理,即可酌情给分)

(二)

19.

- ①交代了定和选择音乐的过程和原因;②引出“音乐迷”的由来,呼应题目,为后面写他对音乐的痴迷作铺垫。

20.

- (1)①肖邦等西方音乐大师一生沉迷于音乐,又用音乐长期影响了世界;②定和被他们的作品征服,同时也像他们一样沉迷于音乐。
(2)①定和痴迷音乐并有了相当大的成就;②作者认为他不会满足当前成就,而在音乐之路上更坚定地走下去。

21.

- ①定和在上海痴迷于西洋古典音乐的情形;②定和在逃亡途中放弃其他而独带乐谱;③重庆避难时继续沉醉音乐并以此作为事业。

22.

- ①根据自身情况和爱好,确定目标,并为之付出最大的心力,当会有所收获。
②真正追求艺术,应保持单纯的气质和忠诚的态度,不能急功近利。
③要成事就必须持之以恒,不能因外部环境的变化而改变。
④艺术能激发我们的勇气与信心,即使在困难之中,也能给予我们鼓舞与力量。

(答出其中三点即可。其他答案,只要言之成理,即可酌情给分)

七、

23. (略)

山东大学美英澳国际项目 (第七届)
教育部阳光留学预备实验基地 山东大学与学生签订入学协议 小班授课,以往学生签证通过率100% 校内学习和住宿
美国留学: 1. 美国SAT精品班: 山大1年,美国3-4年 -- 托福+SAT+AP+综合素质培养
2. 美国TOP100名校班: 山大1年,美国4年 -- 免SAT考试,申请美国排名前100大学
3. 美国大学桥梁课程班: 山大2年,美国2年 -- 最经济和高效的留学捷径
英澳留学: 1. 英国约克大学定向班: 山大1年,约克大学3年 -- 充分录取保障,约克大学教授亲临授课
2. 英澳名校预科班: 山大1年,英澳3年 -- 免读海外大学预科,直升英澳名校大一
3. 英澳大学桥梁课程班: 山大2年,英国或澳洲2年 -- 本科攻读硕士,物超所值。
对接院校: 美国排名前100,英国排名前30,澳洲八大名校均可申请。
0531-88364488 88364588 http://gj.sdu.edu.cn 济南市山大南路27号山东大学中心校区知新楼B座320室

山东大学 6月11日入学考试及说明会
0531-88376001/6002/6006/6008
报名地址:山东省济南市历城区洪家楼5号山东大学6号楼109室、7号楼113室 TUFCC国际教育办公室
TUFCC 世界顶级名校本/硕留学预科
1. 英国兰卡斯特大学定向班 全英排名第八位,全球最好商学院之一
2. 意大利名校、法国名校、西班牙名校留学预科 公立大学免学费!年花5万拿学位!工薪家庭首选
3. 新西兰怀卡托大学定向班 八所公立大学之一,被誉为“南半球的哈佛”
4. 1+1名校硕士留学预科 -- 英国、澳洲、新西兰 专本科生直升海外名校硕士,读研快捷新途径
6.11日 上午10:00 英国兰卡斯特大学、新西兰怀卡托大学定向专场讲座
6.15日 上午10:00 美国大学专场讲座
招生对象:高二、高三毕业生大专生 本科生