

66. What causes overcrowding on the road system according to Paragraph 1? (no more than 12 words)

67. What should people do when traveling to other towns according to the Park and Ride projects? (no more than 14 words)

68. Why were some shop owners unhappy about the project? (no more than 10 words)

69. Fill in the blank in Paragraph 4. (no more than 8 words)

70. Why are people unwilling to use public transport according to Paragraph 5? (no more than 8 words)

第二节 写作(满分30分)

某英文报社组织主题为“我喜欢的英语谚语”征文活动,你有意参加。请从下面两句谚语中任选一句作为标题写一篇英语作文,内容须包括:1. 该谚语的含义;2. 体现该谚语含义的个人经历。

① A friend in need is a friend indeed.  
② Where there's a will, there's a way.

注意:1. 词数:120-150;  
2. 文中不得透露个人姓名和学校名称。

参考词汇: 谚语 proverb

绝密★启用前

2014年普通高等学校招生全国统一考试(山东卷)

文科综合

本试卷分第I卷和第II卷两部分,共14页。满分300分。考试用时150分钟。答题前,考生务必用0.5毫米黑色签字笔将自己的姓名、座号、考生号、县区和科类填写在试卷和答题卡规定的位置。考试结束后,将本试卷和答题卡一并交回。

第I卷(必做,共140分)

注意事项:

- 第I卷共35小题,每小题4分,共140分。在每小题给出的四个选项中,只有一项是最符合题目要求的。
- 每小题选出答案后,用2B铅笔把答题卡上对应题目的答案标号涂黑。如需改动,用橡皮擦干净后,再选涂其他答案标号。不涂在答题卡上,只答在试卷上不得分。

改革开放后,随着我国社会经济的发展,人口迁移日趋频繁。完成1-2题。

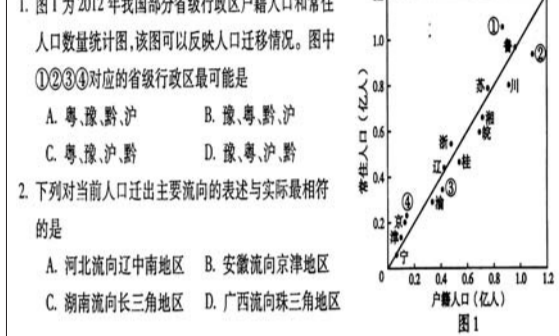


图1 图1为2012年我国部分省级行政区户籍人口和常住人口数量统计图,该图可以反映人口迁移情况。图中①②③④对应的省级行政区最可能是

- 下列对当前人口迁出主要流向的表述与实际最相符的是
- 该城市的布局模式有利于
- 该城市规划建设物流园区和化工园区,应分别安排在

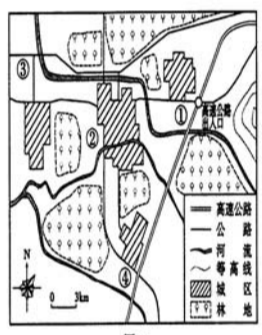


图2 图2为某个组团式城市布局图,各城区分散布局。完成3-4题。

图3为我国某区域冬季某日8时至次日8时的降雪量和积雪深度分布图,该时段该区域风向主要为偏东风,云量分布差异不明显。完成5-7题。

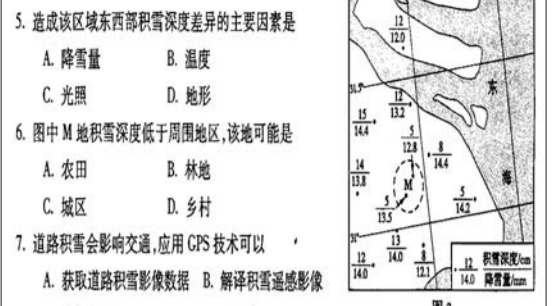


图3 图3为我国某区域冬季某日8时至次日8时的降雪量和积雪深度分布图,该时段该区域风向主要为偏东风,云量分布差异不明显。完成5-7题。

- 造成该区域东西部积雪深度差异的主要因素是
- 图中M地积雪深度低于周围地区,该地可能是
- 道路积雪会影响交通,应用GPS技术可以

图4为甲地所在区域某时高空两个等压面P1和P2的空间分布示意图,图中甲、乙两地经度相同。完成8-10题。




图4 图4为甲地所在区域某时高空两个等压面P1和P2的空间分布示意图,图中甲、乙两地经度相同。完成8-10题。

- 此时甲地近地面的风向为
- 此后,来自乙地的气团使甲地的天气发生明显变化。造成此次天气变化的天气系统是
- 若该日甲、乙两地同时日出,则甲地该日

图5(a)为某班一次地理野外实习的观测点分布图,①-④为观测点编号。图5(b)为该班某小组在其中一个观测点所做的记录卡片。完成11-12题。

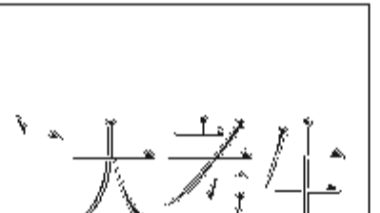


图5(a)为某班一次地理野外实习的观测点分布图,①-④为观测点编号。图5(b)为该班某小组在其中一个观测点所做的记录卡片。完成11-12题。

- 根据图5(b)中记录的信息判断,卡片中“观测点编号”应为图5(a)中的
- 图5(b)中地质剖面示意图所示沉积岩层由老到新的顺序是

强化名校建设、提升品牌质量

山东经贸职业学院百万“溪惠及”大考生

山东经贸职业学院是山东省人民政府批准,国家教育部备案的具有高等学历教育招生资格的省属公办全日制普通高等学校。2011年,被中华全国供销合作总社确定为全国供销社示范高等职业院校建设计划单位;2012年,被确定为山东省首批技能型人才培养特色名校立项建设单位。

历经30多年的积淀,学院已形成

特色鲜明、优势明显的财经、商贸两大专业群,享誉省内外,拥有会计电算化、连锁经营管理、资产评估与管理、报关与国际贸易、金融管理与实务、物流管理等9个省级特色专业,财务管理、旅游管理等9个山东省技能型人才培养特色名校重点建设专业;资产评估与管理、连锁经营管理2个中央财政支持的重点建设专业,35门省级以上精品课程。

山东经贸职业学院2014年招生计划

山东省填报志愿代码: D317

专业名称	省内计划			省外计划							学费	
	文科	理科	对口	河北	山西	内蒙古	辽宁	吉林	黑龙江	安徽		河南
会计电算化	400	200	130	5	6	4	10	17	10	10	3	3000
会计与审计	57	50	30				5	4	4			4800
会计与统计核算	20	20	10									3000
财务管理	43	20	70				4	5	4	4		4800
资产评估与管理	38	20	30				4	5	7	5	3	3000
金融管理与实务	64	38	60	5			5	4	4			3000
金融与证券	15	15										3000
税务	17	13	20									3000
投资与理财	30	20										3000
农村合作金融	15	15										3000
连锁经营管理	65	40	30				4	5	7	6	4	4800
市场营销	43	43	44									4800
营销与策划	25	15										4800
人力资源管理	25	15										4800
社会工作	15	15										4800
电子商务	46	19	47		5	4	5	7	6	9		3000
物流管理	30	17	43									3000
食品加工技术		30										3000
汽车电子技术		26	6									3000
电气自动化技术		17	13									3000
报关与国际贸易	40	22	10		4		5	5	5	9		4800
国际贸易实务	40	34			5				11			4800
应用韩语	20	10										4800
涉外英语	20	10										4800
旅游管理	22	17	11									4800
商务助理	13	10	7									4800
计算机应用技术	20	15	15									3000
动漫设计与制作	14	12	4									3000
广告设计与制作	20	10										3000
艺术设计	20	10										3000
合计	1229	631	590	10	20	20	45	55	55	45	10	

学校地址: 山东省潍坊市潍城区青年路2798号(或都湖西侧)  
 邮编: 261011  
 公交线路: 26、28、36、39、51、63路公交车直达学校  
 网址: www.sdeau.com  
 咨询电话: 400-0176-567 0536-2600007、2600077、2600088