

29. 2013年10月,习近平在访问印度尼西亚时提出,中国与东盟国家在国际和地区事务中有共同语言;对中国和一些东南亚国家在领土主权和海洋权益方面存在的分歧,双方要通过平等对话和友好协商妥善处理。这表明

- ①中国尊重东盟拥有的国家主权 ②中国坚持和平共处五项原则
③中国与东盟国家存在共同利益 ④中国在东盟事务中发挥主导作用
A. ①② B. ②③ C. ①④ D. ③④

30. 某地政府在新农村文化建设中,着力推进文化礼堂建设,设立学习讲堂、民风廊、励志廊等,开展各种文化活动,促进了农村文化从单纯娱乐向更高精神层面的跃升,形成了一股崇尚向上的强大力量。该地的成功经验表明,新农村文化建设要

- A. 支持健康有益文化,抵制农村通俗文化
B. 承袭农村传统习俗,提高农民道德修养
C. 积极发展文化产业,保障农民文化权益
D. 大力发展文化事业,丰富农村文化生活

31. 随着我国经济社会的发展,志愿者队伍日益壮大。志愿者们不计报酬,帮助他人,服务社会,践行志愿精神,传播先进文化,为构建和谐社会贡献力量。上述内容说明

- ①社会的发展与人的发展是相互促进的
②践行社会主义核心价值观要从我做起
③经济发展水平取决于人的思想道德水平
④提高思想道德修养能够促进科学文化修养
A. ①② B. ①③ C. ②④ D. ③④

32. 《大道鲁商》是一部跨越人文和经济两个领域的文献纪录片,全景式地展示了鲁商从古到今诚实守信、仁义和、胸怀天下的优秀品质,揭示了鲁商成功背后的文化内核。这反映了

- A. 文化影响人的实践活动 B. 商业贸易促进文化发展
C. 文化对经济发展起推动作用 D. 鲁商文化是齐鲁文化的全方位展示

33. 宋代的朱熹与陆九渊曾进行过多次辩论。朱熹认为,事物不在人的主观意识之中,“理”是事物存在的根据。陆九渊则认为,世界的本原便是“吾心”,“理”是离不开心的。此处所示的“朱陆之争”实质上属于

- A. 辩证法和形而上学的对立 B. 唯物主义和唯心主义的对立
C. 客观唯心主义和主观唯心主义的分歧
D. 朴素唯物主义和形而上学唯物主义的分歧

34. 假如“完美”是100分,那么60分不完美,80分也不完美,但不要因为80分不是100分而否认从60分进步到80分的意义。这启示我们要

- A. 坚持两点论与重点论的统一 B. 脚踏实地,注重量的积累
C. 抓住事物发展中的主要矛盾 D. 抓住时机,积极促成质变

35. 19世纪,科学家发现分子是由原子组成的。20世纪初,科学家发现原子由原子核和核外电子构成。20世纪30年代,科学家认识到原子核由质子和中子构成。现在,科学家正在对质子和中子的内部结构进行研究。人类对物质结构的认识过程说明

- A. 实践是认识的目的和归宿
B. 彻底认识世界是不可能的
C. 真理在发展中不断超越自身
D. 随着实践的发展总会发现真理中的错误

第II卷(必做140分+选做20分,共160分)

注意事项:

- 1. 第II卷共13道题。其中36-42题为必做部分,43-48题为选做部分。
2. 第II卷所有题目的答案,考生须用0.5毫米黑色签字笔答在答题卡规定的区域内,在试卷上答题不得分。
3. 考生在选做部分的试题中须从地理、历史两科中各选择1道试题作答。答题前,请考生务必在答题卡上将所选题号用2B铅笔涂黑,答题后,再次确认所选题号。

【必做部分】

36. (27分)阅读材料,回答问题。

塞内加尔河是一条国际河流,发源于素有“西非水塔”之称的富塔贾隆高原。该河中下游地区干湿季变化明显,水资源短缺问题突出。图7为塞内加尔河流域及河口三角洲前缘的沙洲示意图。

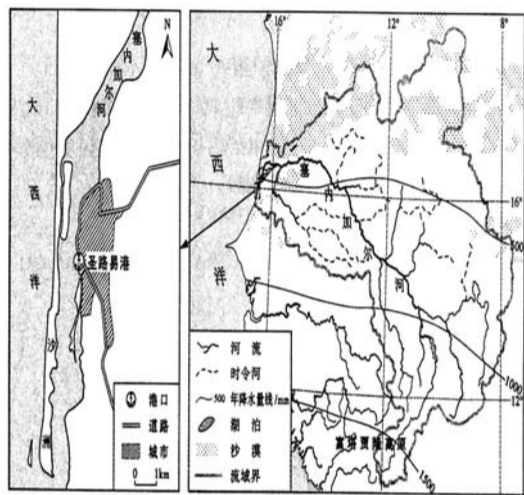


图7

- (1)说明富塔贾隆高原被称为“西非水塔”的原因。(6分)
(2)沿海沙洲是海陆相互作用的产物。试推断三角洲前缘沙洲不断向南延伸的主要原因,并分析该沙洲对圣路易港的不利影响。(9分)
(3)针对塞内加尔河中下游地区农业发展面临的水资源短缺问题,提出解决措施。(12分)

37. (15分)阅读材料,回答问题。
材料一 20世纪90年代以来,中国逐步成为世界主要汽车企业投资的热点地区。现今,中国已超过美国,成为世界最大的汽车生产国。

材料二 吉林省是我国汽车工业大省。近年来,该省汽车工业规模不断扩大,部分汽车零部件生产由长春市向周边地区转移,带动了周边地区汽车零部件生产企业的快速发展,形成了以长春市为核心的汽车工业“整零协作”模式。图8为长春市及其周边地区汽车工业空间体系图。

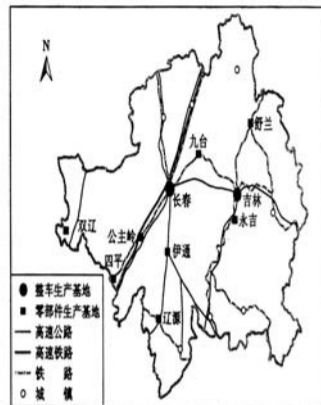


图8

- (1)指出与美国相比,中国汽车工业发展的区位优势。(6分)
(2)试分析汽车工业“整零协作”模式对长春市周边零部件生产地区的积极作用。(9分)
38. (24分)某历史兴趣小组以“20世纪初中国的社会发展与女性解放”为课题开展研究性学习,在研究过程中使用了以下材料,得出了相关结论。

材料

甲:图9为兴趣小组根据汪玲《中国婚史》中统计的历代节妇烈女人数绘制的柱状图。




图9

欢迎报考——专科中的“211”高校

学校简介 学院创立于1955年,直属山东省教育厅主管,国有公办普通高校。学院位于潍坊市中心,人文环境得天独厚。学院设动物科技类、动物医学类、宠物科技类、饲料营养与水产业、食品与药品类、经济贸易类等

在鲁代码C947

国办高校 值得信赖

国家示范性(骨干)高职院校



山东畜牧兽医职业学院

ShanDong Vocational Animal Science And Veterinary College

校址: 山东省潍坊市胜利东街88号
电话: 0536-8581030 / 3081030
8586253 / 3086253
http://www.sdmyxy.cn
E-mail: sdmxzs@163.com
QQ群: 34165054 / 76952768
75402383

2014年普通专科主要招生专业:

- 畜牧生产类 动物医学类 宠物养护类 饲料与营养类 兽药生产与营销类
食品与药品检测类 食品工程类 机电一体化技术 经济管理 会计电算化 电子商务 物流管理

2014年“3+2”本科试点班招生专业:

- 动物医学: 80人, 理工类, 合作院校: 山东农业大学 食品加工技术: 80人, 理工类, 合作院校: 青岛农业大学

山东牧院做到了毕业生好就业 就业好能创业 易升本!

结果面前, 其他一切包装都是浮云...



青岛港湾职业技术学院

★国家示范性骨干高职院校 ★山东省首批“3+2”本科试点院校 ★首批全国交通职业教育示范院校 ★国家技能人才培养突出贡献奖 ★山东省高等职业教育示范院校 ★中国最佳船员培训学校

【办学性质】学院始建于1976年,属交通运输部投资建校,现由山东省教育厅主管,青岛港集团主办,是一所港航特色鲜明的国有公办全日制普通高等院校。

【办学条件】学院占地1045亩,固定资产总值6.97亿元,纸质图书60.76万册;学院师资力量雄厚,现有专兼职教师805人,高级职称179人,双师型教师占80%,省级教学团队4个。学院拥有校内实验、实训室129个,港口大型装卸机械船位、门机等校内实训基地,现有国家级紧缺(数控)人才培养基地1个,9个中央财政支持实训基地(电工电子、汽车、物流)1个省级财政重点支持实

训基地;学院建有高标准体育场、大学生活动中心、学生餐厅等设施。而肉全蛋招生,目前全日制在校生1万多人。

【专业优势】学院开设港口机械、港口电气、港口业务管理、港口物流机械、集装箱运输管理、国际航运业务管理、报关与报检、物流管理、航海技术、轮机工程、机电一体化、数控技术、计算机、汽车技术等七大专业群,覆盖交通、财经、电子信息、制造、土木、文化教育六大类96个专业。目前,学院建有国家重点建设专业6个,中央财政支持的重点专业2个;省级特色专业7个,行业特色专业1

个,省级特色专业9个,市级重点专业1个,国家级、省级精品课程34门,技能精品课60门。

【就业优势】学院建立了以青岛港为龙头,包括全国沿海沿江各大港口、航务、物流等知名企业在内的强大而稳固的实习实训基地和毕业生就业网络,为社会培养了大批持有毕业证、技能证书的“双证书”高技能型人才,毕业生遍布青岛、烟台、威海、日照、大连、秦皇岛、芜湖、南京、宁波、厦门、广州、深圳、北海等港口和新兴海陆空物流公司,中远、中海、上汽通用、海尔、海信、海信、武船重工等国内外知名企业。建校以来,已有6000多名毕业生在青岛港

就业,近年来,青岛港(集团)有限公司每年以校招招聘毕业生达800人左右,近几年毕业生就业率保持在98%以上,毕业生实现优质就业、稳定就业。

【招生情况】作为山东省首批“3+2”本科试点院校,学院2014年继续与青岛大学、青岛农业大学开展3+2分段培养本科试点班招生。学院2014年还加大春季高考招生计划,具体分专业招生计划请登录山东省普通高等教育招生考试院网站,也可登录学院网站查询,热忱欢迎广大春季、夏季高考考生报考!

山东省考生报考代码: D014

学院地址: 青岛市黄岛区胶南大学一路216号
邮政编码: 266404
咨询电话: 0532-81735177
咨询QQ: 502680094
电子邮箱: qdgwzab@163.com
学院网址: http://www.qdgw.edu.cn

