

【选做部分】

43. (10分)【地理—旅游地理】

阅读材料,回答问题。

室外滑雪作为一项体育与休闲娱乐项目,日益受到人们的喜爱。滑雪场的雪可来源于自然降雪和人工取水造雪。图10为我国南方某大型滑雪场地形和位置示意图。

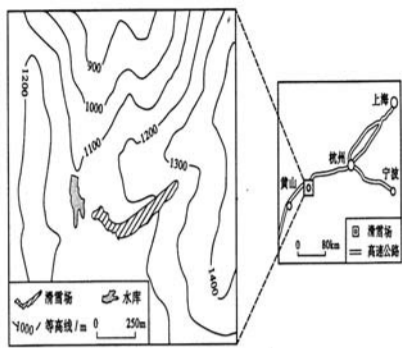


图10

指出该滑雪场选址的有利条件(10分)。

44. (10分)【地理—自然灾害与防治】

阅读材料,回答问题。

三江源地区位于青海省南部,农业生产以草地畜牧业为主。20世纪50年代以来耕地面积比重增加。该地区是我国冰雹天气多发地区,但近60年来冰雹天气次数呈下降趋势,冰雹成灾次数却呈明显上升趋势。图11为三江源地区1950~2011年各月雹灾累积次数统计图。

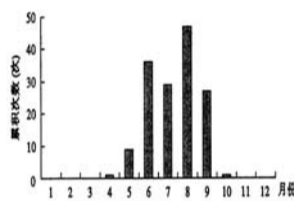


图11

(1)简述三江源地区冰雹灾害的年内分布特征。(6分)

(2)分析近60年来三江源地区冰雹成灾次数上升趋势的原因。(4分)

45. (10分)【地理—环境保护】

阅读材料,回答问题。

植被浅沟常布置在城市道路两侧、不透水地面的周边和大面积绿地内等处,可与城市雨水管网或集水池相连,其表面一般种草进行覆盖。图12为植被浅沟示意图。

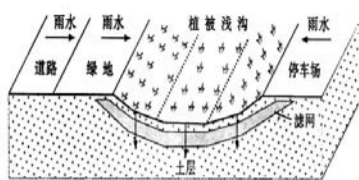


图12

指出植被浅沟在资源利用和环境保护中的作用(10分)。

46. (10分)【历史—历史上的重大改革回眸】

阅读材料,回答问题。

材料一 中外大小诸臣,自王公以及士庶,各宜努力向上,发愤为雄,以圣贤义理之学植其根本,又须博采西学之切于时务者实力讲求,以故空疏迂谬之弊。

——光绪帝(宣示诸臣实力讲求西学)

材料二 近者设立海军、使馆、招商局、同文馆、制造局、水师堂、船厂,而根本不正,百事皆非。

今天下之言变者,曰铁路,曰矿务,曰学堂,曰商务,非不也,然若是者,变事而已,非变法也。

——据康有为《敬谢天恩并统筹全局折》等

(1)在改革问题上,光绪帝和康有为的认识有何相同之处?(2分)

(2)根据材料中两人对改革的不同理解,说明资产阶级维新派的主张在当时不能实现的原因。(8分)

47. (10分)【历史—近代社会的民主思想与实践】

阅读材料,回答问题。

图13为若拉·德·贝特莱的画作《革命的寓意》。画面顶部是一位法国启蒙思想家的肖像,此外还有许多历史象征和革命符号(注:图中文字为引者标注)。此画完成于1794年,正值法国大革命最激进的时期。



图13

(1)法国大革命时期,哪些重要文献体现了画中所标注符号蕴含的革命精神?(4分)

(2)结合时代背景,判断画中的启蒙思想家是伏尔泰还是卢梭,并说明理由。(6分)

48. (10分)【历史—20世纪的战争与和平】

图14、15为二战后不同时期德国局势示意图。阅读材料并结合所学知识,回答问题。

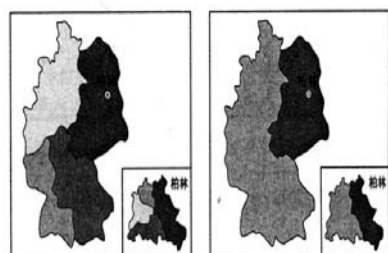


图14 1945年的德国

图15 1948年的德国

(1)分别说明图14、15所示局势形成的主要原因。(6分)

(2)概括指出图15所示局势的形成产生了怎样的影响。(4分)

求学的圣地 成才的摇篮

——烟台南山学院办学八大优势

烟台南山学院是中国企业500强、国家级大型企业南山集团投资兴办,经教育部批准的普通本科高校。学院开设78个本科专业,涵盖工、文、经、管、艺等学科门类。全日制在校生2万多人。

非优雅的校园环境

学院地处气候宜人、风景秀丽的胶东半岛新兴海滨城市烟台龙口,占地面积3028亩,建筑面积76.28万平方米,现有东海和南山两个校区。东海校区位于烟台海滨森林公园内,按北校门是天然海滨浴场,西侧是亚洲最大的滨海国际高尔夫球场;南山校区紧邻国家5A级旅游风景区——南山景区。海洗声、松涛声、鸟鸣声、读书声,汇成校区交响曲;花园、公园、乐园、学苑,构成学习生活大家园。

非先进的办学设施

学院实验实训总面积约4.6万平方米,各类实验室168个;建成了“主干千孔、可扩展、集百孔”的大型综合性实训网络;图书馆建筑面积约3.80万平方米,内设7个书库,9个阅览室,4个盲修室,馆藏纸质图书149余万册,电子图书88GB。学院教学用微机8009台,多媒体教室172个;现代化的图书馆、高标准的体育场、大学生活动中心等服务设施一应俱全。

非优良的师资队伍

大师身旁宜助教,名师身边好读书。烟台南山学院突出“博

士+教授”的师资特色,为提高教学质量奠定了雄厚的师资基础。学院自主聘任教师,现有院士1人、博士生导师6人、硕士生导师28人、副高级及以上教师142人,硕博研究生学历教师680人,“双师型”教师124人,形成了一支以教授为引领、以研究生学历教师为主体的数量充足、素质优良、结构较为合理的专任师资队伍。他们中有享受国务院特殊津贴的专家,有主持过多项国家级、省部级重点课题的博士生导师,有在国外留学归来的学者,有在中外软件业作出突出贡献的软件高工,有参加过国产飞机设计制造的教授专家,名师荟萃,教授满堂。

非高端的航空教育

烟台南山学院航空学院设有飞行器动力工程、测控技术与仪器、飞行技术和交通運輸四个本科专业。建有民航飞机机务维修中心、机务维修训练中心;购置发动机、飞机机械部件、机载设备实训室;风洞实训室、模拟飞行实训室、航空适航实训室等11个专业实训室;拥有单、多发教练飞机2架,飞行模拟器6台、飞行模拟实训室2个,高性能CJ4D级全动飞行模拟机1台。南山集团倾力打造的航空制造、机场建设、公务机运营、航空器维护保养、航空人才培养于一体的航空产业链快速发展,为毕业生步入航空领域和高层次岗位提供了更大的空间。

非特色的教学模式

烟台南山学院全面推行因材施教,为每一个学生成长成才铺路搭桥。对于学习基础好的学生,通过实施青年英才开发计划,与中外名校联合办实验室,让学生学到最新最前沿的知识。对于学习基础较弱的学生,实施技能型人才培养计划,加强实训锻炼和实践操作,使之成为合格的技能型实用人才。南山集团每年为学院学生提供7100多人次的实践教学机会;与中创软件等省内、外50家企业合作,每年安排3800人次实习训练,提升学生的实践能力。近几年,学生荣获科技竞赛和技能大赛奖项400余项,其中,国家级30项,省级228项。对于部分希望出国深造的学生,学院在聘请外教、加强双语教学的同时,重点整合交换生、奖学金等校内外资源,每年选拔优秀学生到国外知名大学学习深造。对于专科学生,学院还推出“试点本科”、函授本科等专升本学历教育模式。试点本科实行注册制,课程分全国统考课程和学院组织考试课程,学生考试合格准予毕业,颁发全国普通高等学校本科毕业证书。学院积极组织学生考研深造,培养其成为社会高层次专业人才。近年已有数百名考生考取北京大学、浙江大学、中国科学技术大学等“985”“211”高校研究生。

非雄厚的科研实力

学院实施科研强校战略,与南山集团共建博士后工作站、院士工作站、多个研究所、开发基地、工程中心、设计中心和实验室检测中心,产学研相结合,联合

开展科研攻关。“金毛180A/2型毒剂料”等两项成果被鉴定为达到国际领先水平;“高精度微陀螺仪的研制”等两项科研成果被鉴定为达到国际先进水平,多项成果被鉴定为达到国内领先水平;“零毛/芳纶纤维与拒水防油复合功能纤维技术开发与应用”成果,荣获2013年度中国纺织工业联合会科学技术进步二等奖。

非善爱的助学体系

学院构建了完善的“奖、助、贷、勤”的资助体系,包括奖学金(国家奖学金、国家励志奖学金、省政府奖学金、烟台南山学院奖学金)、国家助学金、特困国家助学金、求职补贴、助学贷款、烟台南山学院助学金、勤工俭学等。近三年,共有69人获得国家奖学金,1426人获得国家励志奖学金,39人获得山东省政府奖学金,569人被评为山东省优秀毕业生,77人被评为山东省优秀学生干部、优秀学生,累计有8170人次获得国家或省政府的各类奖学金2877.9万元;帮助6107名家庭经济困难学生资助贷款3049.11万元;学院发放烟台南山学院奖学金1370余万元。

非一流的就业名校

据山东省人力资源和社会保障厅文件公布:近三年,烟台南山学院本科毕业生就业率位居全省前茅,本科毕业生正式就业率连续三年名列全省第一。学院每年与南山集团等四十多个企业签订“订单培养”协议,实现了专业设置、招生、培养和就业联

动,毕业生与订单培养的大中型企业实现订单就业,就业质量率超90%。2014年学院飞行技术专业与青岛航空公司订单定向培养30名飞行员。学院加强创新创业教育,提升毕业生自主创业水平,积极为用人单位提供前期联系、宣讲、笔试、面试、签约等“一条龙”的精细化就业服务;每年开展包括单位专场招聘会、企业专场招聘会等多层次、多形式的校园招聘,进驻招聘企业800多家,构建了完善的就业招聘服务体系。同时,学院积极服务毕业生考取公务员和事业单位。

学院的办学质量得到了社会的充分肯定。据《山东大学专业——2014高考志愿填报指南》,对全国794所本科高校综合实力排名,烟台南山学院列山东省民办高校第一名。据中国科教评价网2014年中国民办院校竞争力排行榜,烟台南山学院列全国424所民办高校第五名,山东省民办高校第一名。

联系方式:

东海校区地址:山东省烟台市龙口东海旅游度假区
邮编:265713
南山校区地址:山东省烟台市龙口南山工业园
邮编:265706
学院网址:
http://www.nanshan.edu.cn/
招生网址:http://zs.nanshan.edu.cn
邮编:E-mail:zsb@nanshan.edu.cn
联系电话:0535-8509070
8509228 8509059
飞行技术专业咨询电话:
0535-8737936 8509785