

26. 北宋前中期,在今四川井研县一带山谷中,密布着成百上千个采用新制盐技术的竹筒井。井主所雇工匠大多来自“他州别县”,以“佣赁力”为生,受雇期间,若对工作条件或待遇不满意,辄另谋高就。这反映出当时

A. 民营手工业得到发展
B. 手工业者社会地位高
C. 雇佣劳动已经普及
D. 盐业专卖制度解体



27. 图6中的动物是郑和下西洋时外国使臣随船向明政府贡献的奇珍异兽。明朝君臣认为,这就是中国传说中的“麒麟”,明成祖遂厚赐外国使臣。这表明当时

A. 对外交流促使中国传统绘画出现新的类型
B. 朝廷用中国文化对朝贡贸易贡品加以解读
C. 海禁政策的解除促进了对外文化交流
D. 外来物品的传入推动了传统观念更新

28. 甲午战争时期,日本制定舆论宣传策略,把中国和日本分别“包装”成野蛮与文明的代表,并运用公关手段让许多欧美舆论倒向日方。一些西方媒体甚至宣称,清政府战败“将意味着数百万人从愚蒙、专制和独裁中得到解放”。对此,清政府却无所作为。这反映了

A. 欧美舆论宣传左右了战争进程
B. 日本力图变更中国的君主政体
C. 清朝政府昏庸不谙近代外交
D. 西方媒体鼓动中国的民主革命

29. 五四运动后,出现了社会主义是否适合中国国情的争论,有人反对走俄国式的道路,认为救中国只有一条路,就是“增加富力”,发展实业;还有人主张“采用劳农主义的直接行动,达到社会革命的目的”。这场争论


A. 确定了新民主主义革命的道路
B. 使思想界认清了欧美的社会制度
C. 在思想上为共产党的成立准备了条件
D. 消除了知识分子在救亡图存方式上的分歧

30. 1948~1949年夏,英、法、美等国通过各自渠道同中国共产党接触,试探与将要成立的新政府建立某种形式的外交关系的可能性。中共中央考虑:不接受足以束缚手脚的条件;可以采取积极办法争取这些国家承认;也可以等一等,不急于争取这些国家的承认。这反映出

A. 中国共产党奉行独立自主的外交政策
B. 西方国家放弃了对国民党政权的支持
C. 中国冲破了美国的外交孤立
D. 新政府不急于获取国际支持

31. 图7是1953年的一幅漫画,描绘了资源勘探队员来到深山,手持“邀请函”叩响山洞大门的情景。这反映了当时我国

A. 已经初步改变工业落后局面
B. 开始进行对矿产资源的开采
C. 国民经济调整任务基本完成
D. 大规模的经济建设正在展开



32. 古代雅典的梭伦在诗中写道:“作恶的人每每致富,而好人往往贫穷;但是,我们不愿意把我们的道德和他们的财富交换,因为道德是永远存在的,而财富每天在更换主人。”据此可知,梭伦

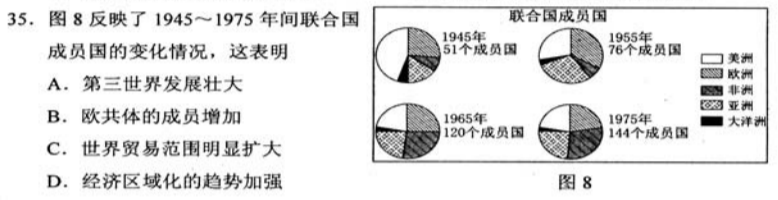
A. 反对奴隶制度
B. 主张权利平等
C. 抨击贫富差别
D. 具有人文精神

33. 1847年6月,正义者同盟改名为共产主义者同盟,以“全世界无产者,联合起来”的新口号代替“人人皆兄弟”的旧口号,并规定同盟的目的是:“通过传播财产公有的理论并尽快地求其实现,使人类得到解放。”这一变化说明

A. 共产主义者同盟接受了马克思的革命理论
B. 马克思主义的诞生推动了无产阶级的斗争
C. 工人运动在欧洲的主要资本主义国家开始兴起
D. 无产阶级与资产阶级的矛盾成为社会主要矛盾

34. 传统观点认为,英国成为工业革命发源地,是因为英国最早具备了技术、市场等经济条件;后来有研究者认为,其主要原因是英国建立了君主立宪制度;又有学者提出,煤铁资源丰富、易于开采等自然条件是其重要因素。据此可知,关于工业革命首先在英国发生的认识

A. 只能有一种正确合理的观点
B. 随着研究视角拓展而趋于全面
C. 缺少对欧洲其他国家的观察
D. 后期学者研究比传统观点可信

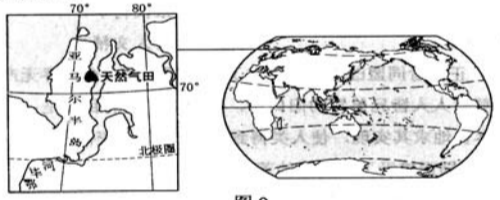


二、非选择题:共160分。第36~42题为必考题,每个试题考生都必须作答。第43~47题为选考题,考生根据要求作答。

(一)必考题:共135分。

36. 阅读图文资料,完成下列要求。(24分)

俄罗斯是世界重要的天然气开采和出口国。2017年12月8日,中俄能源合作重大项目——亚马尔液化天然气项目正式投产。该项目集天然气勘探开采、液化、运输、销售于一体,是中国提出“一带一路”倡议后实施的首个海外特大型项目。俄罗斯为该项目配建了港口。由于自然条件的限制,该项目采用模块化施工方式,即将生产线和相关建筑设计成一系列的模块,由全球多地工厂制造,然后运至项目施工现场拼装。模块体积大,重量大,最大的模块重量与艾菲尔铁塔相当。该项目以中国、日本等亚洲太平洋沿岸国家为主要目标市场。中方企业全方位参与设计和建造,数十家企业承揽了85%模块的建设。该项目超过60%的模块和零部件经白令海峡—北冰洋航线运至项目施工地。图9示意该项目的位。



(1) 简述俄罗斯配建港口对该项目及周边区域发展的经济价值。(8分)

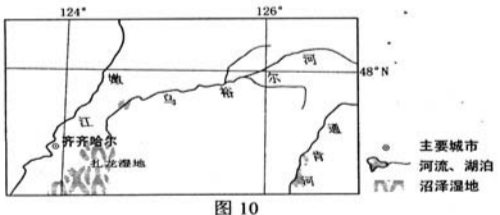
(2) 说明采用模块化施工方式对该项目建设的益处。(6分)

(3) 分析开发白令海峡—北冰洋航线对提高该项目产品(液化天然气)市场竞争力的作用。(6分)

(4) 指出在该项目合作中体现的中俄两国各自的优势。(4分)

37. 阅读图文资料,完成下列要求。(22分)

乌裕尔河原为嫩江的支流。受嫩江西移、泥沙沉积等影响,乌裕尔河下游排水受阻,成为内流河。河水泛滥,最终形成面积相对稳定的扎龙湿地(图10)。扎龙湿地面积广大,积水较浅。



(1) 河流排水受阻常形成堰塞湖,乌裕尔河排水受阻却形成沼泽湿地。据此推测扎龙湿地的地貌、气候特点。(6分)

(2) 分析从乌裕尔河成为内流河至扎龙湿地面积稳定,乌裕尔河流域降水量、蒸发量数量关系的变化。(6分)

(3) 指出未来扎龙湿地水中含盐量的变化,并说明原因。(6分)

(4) 有人建议,通过工程措施恢复乌裕尔河为外流河。你是否同意,并说明理由。(4分)

38. 阅读材料,完成下列要求。(14分)

近年来,随着经济进一步发展和国家全民健身战略的不断推进,国内掀起了马拉松热。2011年中国马拉松赛事仅有22场,2017年增长到1100场。据预测,2020年中国马拉松赛事将达1900场。

马拉松赛事的参与人数多、涉及领域广。2017年参加马拉松比赛的人次超过500万,覆盖全国234个城市,赛事带动安保、保健、住宿、餐饮、旅行、体育文化等服务业的发展。据测算,2017年全国马拉松主办方的直接营业收入超过270亿元,主办城市的间接收入超过1350亿元。

结合材料,运用经济知识分析近年来我国马拉松热的驱动因素。(14分)

39. 阅读材料,完成下列要求。(12分)

根据新时代坚持和发展中国特色社会主义的新形势新实践修改宪法,是党和国家政治生活中的一件大事。2017年9月,中共中央政治局会议决定启动宪法修改工作,成立宪法修改小组。

2017年11月,党中央发出征求对修改宪法部分内容意见的通知,首轮征求意见;各地区各部门和党外人士共提出2639条修改意见;12月,党中央修宪建议草案稿下发党内一定范围征求意见;同月,习近平总书记主持召开党外人士座谈会,听取意见和建议。

2018年1月,中共中央向全国人大常委会提出关于修改宪法部分内容的建议。同月,十二届全国人大常委会召开会议进行讨论,决定提请十三届全国人大一次会议审议宪法修正案草案。2018年3月,十三届全国人大一次会议表决通过宪法修正案。

结合材料,说明宪法修改是如何体现我国社会主义民主政治的。(12分)

青岛港湾职业技术学院

QINGDAO HARBOUR VOCATIONAL AND TECHNICAL COLLEGE

学院始建于1975年,是一所国有公办全日制普通高等职业院校。

【区位优势】学院坐落在风景如画、气候宜人的青岛西海岸经济新区中心位置,青岛古镇口军民融合区的核心地带,学院西靠国家级风景区珠山秀谷,东临波澜壮阔的黄海,与灵山岛风景区隔海相望(离海边步行5分钟),海军公园、国际展览城等近在咫尺。

【办学优势】作为国家骨干高职院校,学院始终坚持立足港航物流,面向蓝色经济,服务“一带一路”的办学定位,为港口物流行业和区域经济发展服务,为军民深度融合发展战略服务,开展学历教育和

山东省考生报考代码: D014

- ★ 国家骨干高职院校
- ★ 全国首批交通职业教育示范院校
- ★ 山东省高等职业教育示范院校
- ★ 山东省首批“3+2”本科试点院校
- ★ 国家技能人才培养突出贡献奖
- ★ 中国最佳船员培训学校

省级特色专业7个,省级示范专业3个,省级品牌专业群2个,青岛市重点专业6个。

【就业优势】学院充分依托校企合作理事会的平台,建立了以国内沿海沿江各大港口、航运、现代物流等知名企业为实习实训基地和毕业生就业网络。毕业生遍布全国各大港口、国内外知名航运企业以及现代口岸物流等企事业单位,毕业生以过硬的职业技能和良好的职业素养深受用人单位欢迎,学院每年双选会提供就业岗位供需比高达1:3,就业率持续保持在98%以上,毕业生实现稳定就业、优质就业和高薪就业。

【升学优势】学历提升路

径多,“3+2分段本科”:学院与青岛大学、青岛农业大学、山东交通学院开展对口贯通本科培养;“专升本套读自学考试”:与山东大学、山东财经大学、青岛大学、青岛理工大学等名校开办专科期间自考套读本科,获取本科文凭,符合学位授予条件,可授予相应学位;“专升本统考”:学生在大三可参加山东省专升本统考,可到其他本科院校继续深造。

【住宿优势】学生宿舍是欧式建筑风格,标准六人间,内设独立卫生间、洗漱间、观海景阳台(东看波澜壮阔的大海,西看美丽的珠山秀谷),房间配备热水器、衣橱、暖气、风扇等设施,无线网络全覆盖,收费标准每人全年1000元。

【招生计划】学院2018年在山东省招生计划3360人,其中3+2分段培养本科招生计划280人,具体分专业招生计划请查看山东省普通高等院校填报志愿指南,也可登录学院网站查询,热忱欢迎广大考生报考我院!

学院地址:青岛市黄岛区映山红路316号
 邮政编码:266404
 咨询电话:0532-81735177
 官方微信:qdgwzkzx
 招生网址:http://zs.qdgw.edu.cn
 QQ官方群:274128544